


Дистанционное обучение дошкольников
Подготовительной к школе группы компенсирующей направленности для детей с нарушением речи № 10
Рекомендации на период с 16.11 по 20.11.2020

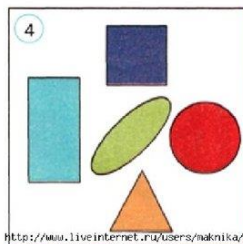

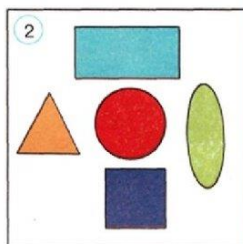

Дата	Занятие по расписанию	Материалы для дистанционного обучения
Тема «Знакомство с лягушками и их жизнью в естественных условиях»		
16.11	Познание	Тема «Знакомство с лягушками и их жизнью в естественных условиях» 1. https://www.youtube.com/watch?v=lrMR17Vk2is 2. https://www.youtube.com/watch?v=Nv29pLeo2GY
	Худ. тв-во	Лепка «Кентавр» 1. https://www.youtube.com/watch?v=NYCn6ha_MPw 2. http://pulmix.ru/mificheskie_sushhestva/kentavry_minotavry/kak_slepit_kentavra_iz_plastili_na_pojetapno.html (Приложение 1)
17.11	ФЭМП	Тема: «Пространственные отношения» (Приложение 2) 1. https://www.youtube.com/watch?v=1aT9qaeMes
18.11	ФЭМП	Тема: «Число 5» 1. https://www.youtube.com/watch?v=ucQMdEbLEkU 2. https://www.youtube.com/watch?v=MFa44-VZz9Y 3. https://infourok.ru/videouroki/4127
	Худ.тв-во	Лепка «Сфинкс» https://www.youtube.com/watch?v=yGrBLvTTo2w
	Художественная литература	Сказка «Лягушка-путешественница» https://www.youtube.com/watch?v=OA7web7So7M
19.11	РНК	Тема: «Кузьминки» http://www.youtube.com/watch?v=FxIJnT6Aozw (презентация) http://www.youtube.com/watch?v=RHGXkws0INU (фольклор детям)
20.11	Худ.тв-во	Оригами «Лягушка» https://www.youtube.com/watch?v=TaIZ6eClk7U



**Пространственные
представления:
вверх, вниз, налево,
направо.**

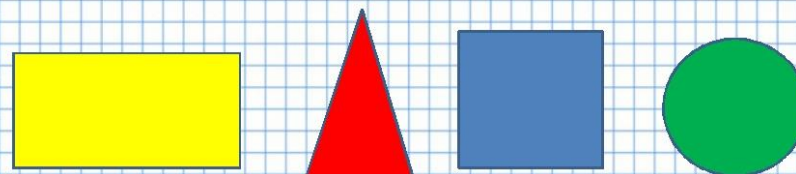


.. Найди картинку, на которой треугольник
нарисован справа от квадрата и под кругом;
квадрат слева от круга и над овалом.
Расскажи, как расположены фигуры
на других картинках.



<http://www.liveinternet.ru/users/maknika/>


Назови фигуры. Назови фигуру по заданию (между, перед,
за, следующая, предыдущая)
Запомни расположение фигур.



Ekaterina050466



Расскажи, чем отличаются рисунки, используя слова:
слева, справа.



Рассмотри, какие предметы находятся слева, а какие справа от девочки (обрати внимание на то, как стоит девочка).



Найди картинку и назови её.
 От стрелки – 1 клетка вверх, 3 направо; от стрелки – 2 клетки вверх, 1 налево; от стрелки – 3 клетки вверх, 2 направо; от стрелки – 4 клетки вверх; от стрелки – 5 клеток вверх, 2 налево; от стрелки – 5 клеток вверх, 1 направо; от стрелки – 6 клеток вверх.

