
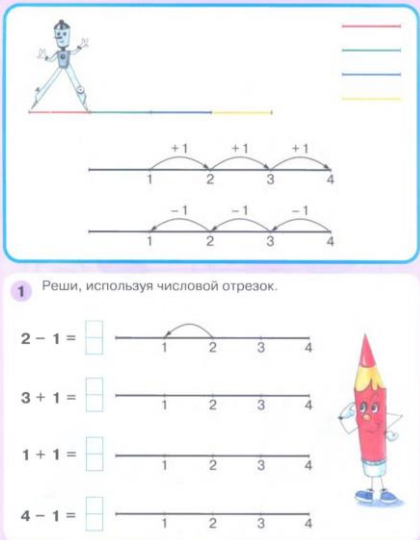




Дистанционное обучение дошкольников подготовительной группы 7
 Рекомендации на период с 25.10.2021 г. по 29.10.2021 г.
 Тема недели: "Знакомство с трудом работников швейной промышленности"

Дата	Занятие по расписанию	Материалы для дистанционного обучения
25.10.2021 г.	Познание (формирование целостной картины мира) Художественное творчество (апликация)	Тема: "Знакомство с трудом работников швейной промышленности" https://youtube.com/watch?v=p1sgKwxDi0&feature=schare Тема: "Кто в лесу живет?" https://www.youtube.com/watch?v=tugTOkkBXp8&feature=emb_logo
26.10.2021 г.	ФЭМП	Тема: "Число и цифра 4" 

	<p>Чтение художественной литературы</p>	<p>Занятие 17 Число и цифра 4</p> <p>4 Разложи квадраты так, чтобы при их сложении в строках и в столбиках получалось написанное число.</p>  <p>5 Реши примеры. Соедини между собой точки с ответом 4. Какая фигура получилась? Что общего у равенств, оказавшихся внутри четырёхугольника?</p> <p> $1 + 3 = \square$ $2 + 2 = \square$ $1 + 1 = \square$ $2 + 1 = \square$ $4 - 2 = \square$ $1 + 2 = \square$ $4 - 1 = \square$ $3 + 1 = \square$ $1 + 3 = \square$ </p>  <p>34</p> <p>Чтение и пересказ рассказа Е.Пермяка "Первая рыбка" https://youtube.com/watch?v=B66JiiNl52w&feature=share</p>
<p>27.10.2021 г.</p>	<p>Коммуникация(развитие речи и подготовка к обучению грамоте)</p> <p>Художественное творчество (живопись)</p>	<p>Сочинение сказки на тему:"Как ежик зайца выручил" Аудиосказка: https://yandex.ru/video/preview?filmId=7108203266363171046&from=tabbar&regid=1603813697801033-1683582857216746820800132-sas18618&suggest_regid=481391774158902280738556831473109&text=сочинение-сказки-на-тему-как-ежик-выручил-зайца-картинки</p> <p>Тема: "Путешествие в Африку" https://youtube.com/watch?v=WSCUZj1ljD0&feature=share</p>
<p>28.10.2021г.</p>	<p>ФЭМП</p>	<p>Тема: "Числовой отрезок"</p>

		<p>Числовой отрезок Занятие 18</p>  <p>1 Реши, используя числовой отрезок.</p> <p>$2 - 1 = \square$ $3 + 1 = \square$</p> <p>$1 + 1 = \square$ $4 - 1 = \square$</p> <p style="text-align: right;">35</p> <hr/> <p>Занятие 18 Числовой отрезок</p> <p>2 Вставь пропущенные знаки. Целое обведи, части подчеркни.</p> <p>$4 \square 1 = 3$ $3 \square 1 = 4$ $4 \square 3 = 1$</p> <p>$2 \square 2 = 4$ $4 \square 2 = 2$ $1 \square 3 = 4$</p> <p>3</p>  <p>4 Раскрась фигуры так, чтобы четырёхугольник был под кругом и на треугольнике.</p>  <p style="text-align: right;">36</p>
29.10.2021 г.	Региональный компонент(РНК) Коммуникация	<p>Тема: "У нас на Урале" https://www.youtube.com/watch?v=sQU5cVB34_U</p> <p>Тема:"Буква и звук И" https://youtube.com/watch?v=JayCYImZiyl&feature=share https://club-detstvo.ru/raznoe/zadaniya-bukva-i-zadaniya-dlya-doscholnikov-s-kartinkami</p>

Художественное
творчество
(живопись)

Тема: "Путешествие в Африку.
Семья животных"

