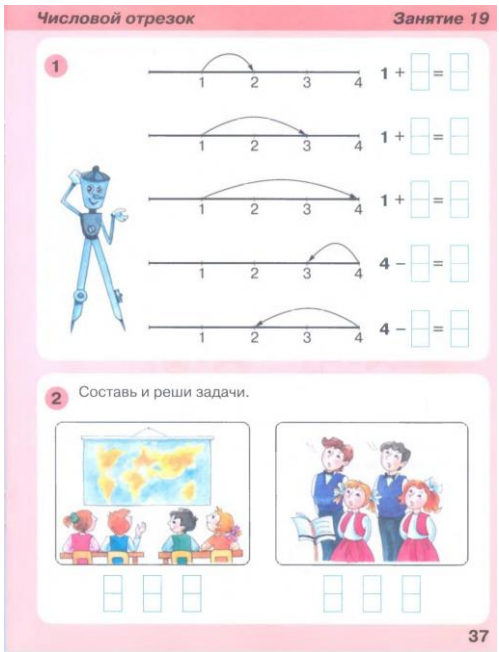







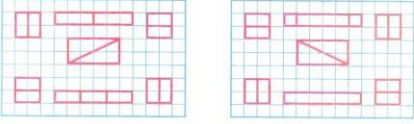








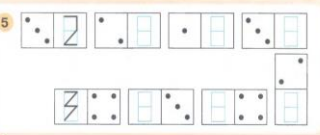
Дистанционное обучение дошкольников подготовительной группы 7

Рекомендации на период с 8.11.2021 г. по 12.11.2021 г.

Тема недели: "Путешествие в Африку"

Дата	Занятие по расписанию	Материалы для дистанционного обучения
8.11.2021 г.	<p>Познание(формирование целостной картины мира)</p> <p>Художественное творчество (апликация)</p>	<p>Тема:"Путешествие в Африку" https://youtube.com/watch?v=7sXZfN3e7Y&feature=share</p> <p>Тема:"Детский сад мы строим сами" https://yandex.ru/video/preview?filmId=213423081428140509&text=апликация-обрывная-дом-подготовительнаягруппа&where=all</p>
9.11.2021 г.	ФЭМП	<p>Тема:"Числовой отрезок"</p> 

	<p>Чтение художественной литературы</p>	<p>Занятие 19 Числовой отрезок</p> <p>3 Реши примеры в первой таблице. Напечатай буквы в соответствующих местах второй таблицы. Прочитай слово.</p> <p> $4 - 3 = \square$ А $1 + 3 = \square$ X $4 - 2 = \square$ Y </p> <p>2 4 1</p>  <p>4 Допиши равенства:</p> <p>  +  = \square  +  = \square  - \square = \square \square -  = \square </p> <p>5 Сделай коврики одинаковыми.</p>  <p>38</p> <p>Пересказ сказки "У страха глаза велики" https://www.youtube.com/watch?v=fIEQdSfhP8Q</p>
<p>10.11.2021 г.</p>	<p>Коммуникация(развитие речи и подготовка к обучению грамоте)</p> <p>Художественное творчество (графика)</p>	<p>Сочинение сказки на тему:"День рождения зайца" https://ds04.infourok.ru/uploads/ex/1334/0009276b-04e6f726/hellohtml2b2e8f48.jpg</p> <p>Тема:"Диковинное перо" https://www.youtube.com/watch?v=Rfafj10KfDA</p>
<p>11.11.2021г.</p>	<p>ФЭМП</p>	<p>Тема:"Слева,справа"</p> <p>Слева, справа Занятие 20</p> <p>1 Обведи синим карандашом тех, кто поднял правую руку, и красным тех, кто поднял левую.</p>  <p>2 Нарисуй путь Вани до дома, если он обходит высокие ёлки справа, а низкие слева. Какая линия получилась?</p>  <p>3 Края полоски с нарисованным на ней числовым отрезком оборваны. Самое маленькое число подчеркни, самое большое — обведи. Расшифруй числа.</p> <p>  $\square - 1 = 3$  - \square  - \square  - \square </p> <p>39</p>

	<p>Региональный компонент(РНК)</p>	<p>Занятие 20 Слева, справа</p> <p>4 Дай мальчику, стоящему справа от девочки, синий шар, а девочке, стоящей слева от учительницы, жёлтый шар. Дай девочке в красном платье синий шар в правую руку, а мальчику в жёлтой рубашке — в левую. Раздели шары по цвету и составь равенства.</p>  <p>5</p>  <p>40</p> <p>Тема: "Синичкин день" https://www.youtube.com/watch?v=NpVKoIIovyA</p>
<p>12.11.2021 г.</p>	<p>Коммуникация</p> <p>Художественное творчество (графика)</p>	<p>Тема: "Буква и звук Э" https://bukvar-online.ru/bukva-eh.php</p> <p>Тема: "Заморские растения" https://www.youtube.com/watch?v=sGc-QkN3W_o https://www.youtube.com/watch?v=0tWzGho_Ekk</p>