


Дистанционное обучение дошкольников подготовительной группы 7
 Рекомендации на период с 13.12.2021 г. по 17.12.2021 г.
 Тема: "Новый год"

Дата	Занятие по расписанию	Материалы для дистанционного обучения
13.12.2021 г.	<p>Познание(формирование целостной картины мира)</p> <p>Художественное творчество(скульптура)</p>	<p>Тема: "Как празднуют Новый год в разных странах" https://www.youtube.com/watch?v=8smJhKXIG2w</p> <p>Тема: "Елочные игрушки" https://www.maam.ru/detskijсад/master-klass-dlja-roditelei-i-detei-na-temu-novogodnie-igrushki-svoimi-rukami.html.</p>
14.12.2021 г.	ФЭМП	<p>Тема: "Число и цифра 6"</p>  <p>Число и цифра 6 Занятие 29</p> <p>1 Расшифруй числа.</p> <p> $\bullet + \bullet = 6$ $\bullet - \square$ $\bullet + \bullet = 4$ $\bullet - \square$ $\bullet + \bullet = \bullet$ $\bullet - \square$ $\bullet + 1 = \bullet$ $\bullet - \square$ $\circ - \bullet = \bullet$ $\circ - \square$ </p> <p>2 Сравни, используя знаки >, < или =.</p> <p> $6 \square 2$ $6 \square 6$ $6 \square 5$ $4 \square 6$ $3 \square 6$ $1 \square 6$ </p> <p style="text-align: right;">57</p>

	<p>Чтение художественной литературы</p>	<p>Занятие 29 Число и цифра 6</p> <p>3 Выполни действия с помощью числового отрезка.</p> <p>$6 - 4 = \square$</p> <p>$1 + 5 = \square$</p> <p>$3 + 3 = \square$</p> <p>$6 - 2 = \square$</p> <p>4 Раскрась фигуру, которую найдешь, двигаясь по маршруту $6 \rightarrow 6 \rightarrow 6 \rightarrow 6$.</p> <p>5 Допиши цифры 5 и 6 и продолжи закономерность.</p> <p>58</p>
<p>15.12.2021 г.</p>	<p>Коммуникация(развитие речи и подготовка к обучению грамоте)</p> <p>Художественное творчество (скульптура)</p>	<p>Составление рассказа на тему: "Моя любимая игрушка"</p> <p>https://nsportal.ru/detskij-sad/razvitierechi/2018/04/19/kinspekt-nod-na-temu-moja-lyubimaya-igruchka</p> <p>Тема: В давние времена "Первобытные люди"</p> 


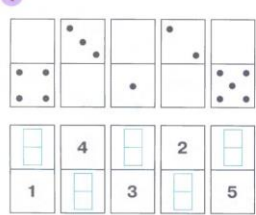
16.12.2021г.

ФЭМП


Тема: "Число и цифра 6"

Число и цифра 6 **Занятие 30**


1 Дополни до шести.



2 Составь и реши задачи.




3 Расшифруй числа.




Занятие 30 **Число и цифра 6**

4 Допиши равенства.



карандашей

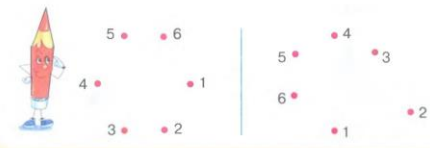


карандашей


6 карандашей

$$\begin{array}{l} \odot + \text{ш} = \square \\ 6 - \odot = \end{array} \quad \begin{array}{l} 6 - \text{ш} = \\ \text{ш} + \odot = \square \end{array}$$

5 Соедини числа по порядку. Какие линии получились? Сделай линии замкнутыми. Как можно назвать получившиеся фигуры?



6 Запиши количество углов в каждом многоугольнике. Какая фигура должна быть следующей? Нарисуй её.



60

Региональный компонент(РНК)

Тема: "Три девицы под окном
пряли поздно вечером"
<https://www.youtube.com/watch?v=TSYMvjRb6D4>

17.12.2021 г.	Коммуникация Художественное творчество (скульптура)	Тема: "Буква и звук Л" https://bukvar-online.ru/bykva-L.php Тема: В давние времена "Первобытные люди" https://www.youtube.com/watch?v=i9lmBRVIErY
---------------	--	---